











Fiche

	1	2	3	4	5	6	7
a							
b							
c							
d							
e							

C'est l'heure du repas. La chenille part de la case **(d ; 1)**.

Si elle veut manger toutes les feuilles, elle devra passer par les cases : (c ; 2), (b ; 4), (a ; 6), (c ; 7) et terminera son parcours dans la case **(e ; 5)**.