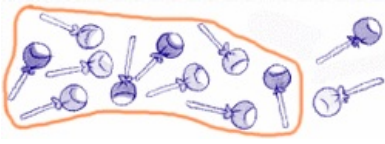




## Fiche

Thomas est un gros gourmand. Il a acheté douze sucettes. S'il étale ses sucettes sur la table, il peut former un groupe de 10 sucettes et il reste 2 sucettes.



Le nombre **douze** s'écrit donc avec les chiffres **1** et **2**.  
**1** pour une dizaine et **2** pour deux unités.

	
Nombre de dizaines	Nombre d'unités
<b>1</b>	<b>2</b>