






Fiche

Ce tableau indique le nombre de médailles obtenues dans chaque classe.

						Total
CP _A	2	0	1	3	0	6
CP _B	3	1	1	2	2	9
CEI _A	1	1	4	1	1	8
CEI _B	0	4	1	2	0	7

Tu peux lire, par exemple, que :

- le CP_B a obtenu le plus de médailles à la piscine ;
- le CEI_A a obtenu le plus de médailles au tennis ;
- le CP_B a réalisé le meilleur score.