











Fiche

|   | 1   | 2   | 3   | 4   | 5   | 6   | 7   |
|---|---|---|---|---|---|---|---|
| a |   |   |   |   |   |  |  |
| b |   |   |   |  |  |   |   |
| c |   |  |  |   |   |   |  |
| d |  |  |   |   |   |   |   |
| e |   |   |   |   |  |   |   |

C'est l'heure du repas. La chenille part de la case **(d ; 1)**.

Si elle veut manger toutes les feuilles, elle devra passer par les cases : (c ; 2), (b ; 4), (a ; 6), (c ; 7) et terminera son parcours dans la case **(e ; 5)**.