

Énoncé

Questions

1. Développement construit : dynamiques territoriales de la France contemporaine

En vous appuyant sur un exemple étudié en classe, rédigez un développement construit d'environ vingt lignes montrant l'organisation et les dynamiques d'une aire urbaine en France.

Pour traiter ce sujet, relisez bien la consigne. On attend de vous que vous évoquiez, dans une première partie, la composition d'une aire urbaine, c'est-à-dire les territoires dépendants d'une ville ou d'un pôle urbain. Votre deuxième partie doit présenter les dynamiques, c'est-à-dire l'évolution et les changements que subissent ces aires urbaines.

2. Comprendre et pratiquer un autre langage ; utiliser des repères : les territoires ultramarins français

- Localisez et nommez les trois océans identifiés sur le planisphère.
- Reliez, dans le tableau ci-après, chaque territoire ultramarin à l'océan dans lequel ou au bord duquel il se situe.

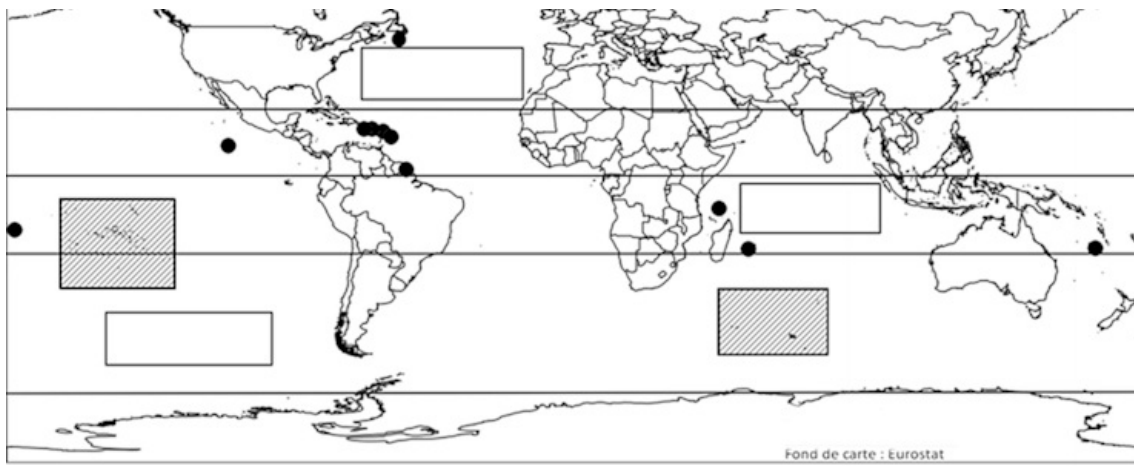
Martinique	<input type="radio"/>	<input type="radio"/>	Océan Atlantique
Réunion	<input type="radio"/>	<input type="radio"/>	
Guadeloupe	<input type="radio"/>	<input type="radio"/>	Océan Indien
Polynésie française	<input type="radio"/>	<input type="radio"/>	
Mayotte	<input type="radio"/>	<input type="radio"/>	Océan Pacifique
Guyane	<input type="radio"/>		




c. Localisez et nommez sur le planisphère deux territoires ultramarins de votre choix.

d. Identifiez l'équateur sur le planisphère par un trait de couleur et complétez la légende.

Les territoires ultramarins français





- Territoire ultra-marin  ou 
- Océan 
- Equateur